



dot. umowy: UDA-POKL.04.01.01-00-154/08-00

Projekt: Przedsiębiorcza Uczelnia

TEST WSTĘPNY

Informacje uzyskane na podstawie poniższego testu zostaną wykorzystane tylko i wyłącznie do
przygotowania uczestnika szkolenia do odpowiedniej grupy.

Imię i Nazwisko: _____

Telefon kontaktowy: _____

E-mail: _____

M1 – PODSTAWY TECHNIK INFORMATYCZNYCH

1. Kilobajt jest to:

- a. 1024 bajtów
- b. 1000 bajtów
- c. 1024 bitów
- d. 10 bajtów

2. Prędkość CPU jest zmierzona w:

- a. BPS
- b. GHz
- c. MB
- d. DPI

3. Które z wymienionych urządzeń jest urządzeniem wejściowym?





- a. Monitor
- b. Głośnik
- c. Skaner
- d. Drukarka

4. Które z wymienionych urządzeń jest urządzeniem wyjściowym?

- a. Drukarka
- b. Mysz
- c. Skaner
- d. Joystick

M2 – PODSTAWY OBSŁUGI KOMPUTERA – PRACA Z SYSTEMEM WINDOWS

1. Który z przedstawionych poniżej typów plików jest wykorzystywany dla plików utworzonych w arkuszu kalkulacyjnym?

- a. .xls
- b. .mp3
- c. .doc
- d. .gif

2. Która zakładka okna właściwości ekranu (wyświetlania) pozwala zmienić tło pulpitu?

- a. Wygaszasz ekranu.
- b. Pulpit.
- c. Ustawienia.
- d. Wygląd.

3. Który z przedstawionych poniżej elementów okna służy do maksymalizacji okna?

- a)  b)  c)  d) 



4. Kompresja pliku powoduje, że:
- Zmniejsza się wielkość pliku.
 - Plik zostanie usunięty.
 - Zwiększa się liczba plików w folderze.
 - Zwiększa się wielkość dostępnej pamięci RAM.

M3 – EDYTOR TEKSTU – OBSŁUGA PROGRAMU MS WORD

1. Która z poniższych ikon służy do pogrubiania/wytłuszczenia tekstu?

-
-
-
-

2. Jaka tabela powstanie po zatwierdzeniu poniższego okna?

Wstawianie tabeli

Rozmiar tabeli

Liczba kolumn: 5

Liczba wierszy: 2

Zachowanie autodopasowania

Stała szerokość kolumn: Auto

Autodopasowanie do zawartości

Autodopasowanie do okna

Styl tabeli: Tabela - Siatka Autoformatowanie...

Zapamiętaj rozmiary nowych tabel





OK Anuluj





- a. 5 kolumn 2 wiersze
- b. 2 kolumny 5 wierszy
- c. Word poprosi o podanie liczby kolumn i wierszy?
- d. 5 kolumn 1 wiersz z opcją dodawania Automatycznie kolejnych wierszy

3. Której z poniższych ikon należy użyć aby wyjustować tekst

- a. 
- b. 
- c. 
- d. 

4. Proszę wskazać odpowiednie element z Menu przedstawionego poniżej gdzie znajduje się opcja zmiany orientacji strony dokumentu w MS Word:

- a. Widok
- b. Edycja
- c. Format
- d. Plik

M4 – ARKUSZ KALKULACYJNY - OBSŁUGA PROGRAMU MS EXCEL



1. Proszę wskazać prawidłowy sposób odwołania w formule do komórki A10

- a. =A_10
- b. =A!10
- c. =A10
- d. =A-10

2. Która z poniższych funkcji jest funkcją wykorzystującą tylko adresację bezwzględną?

- a. =AL\$10+AL10\$
- b. =(A10*b\$40)+80
- c. =\$A\$3*\$AL\$50
- d. =\$C_21*\$A\$2

3. Która z poniższych ikon przedstawia funkcję Autosumy?

- a. 
- b. 



c.  A

d. 

4. Który z poniższych klawiszy naciśnięty po uprzednim zaznaczeniu obszaru danych wygeneruje automatycznie wykres?

- a. F3
- b. F6
- c. F9
- d. F11

M5 – BAZY DANYCH

1. Baza danych to:

- a. Zbiór folderów nie powiązanych wzajemnie
- b. Zbiór informacji związanych z pewną aplikacją
- c. Zbiór informacji związanych z odpowiednim tematem
- d. Zbiór dowolnych danych

2. Zmiana rozmiaru pola z 40 na 20 spowoduje?

- a. Wpisanie 20 słów w polu
- b. Wpisanie maksymalnie 20 znaków w polu
- c. Wpisanie więcej niż 40 znaków w polu
- d. Zmniejszenie rozmiaru czcionki z 40 na 20

3. Które z pojęć wymienionych poniżej nie jest związane z organizacją danych w bazie danych?

- a. Pole
- b. Litera
- c. Rekord
- d. Indeks

4. Powiązanie tabel w bazie danych umożliwia:

- a. Wyświetlanie danych znajdujących się w innych plikach
- b. Wyświetlanie zawartości pojedynczej tabeli
- c. Efektywniejsze wykonywanie operacji matematycznych
- d. Jednocześnie wyświetlanie danych znajdujących się w różnych tabelach

M6 – GRAFIKA MENADŻERSKA I PREZENTACYJNA



1. Który z poniższych przycisków uruchamia pokaz prezentacji?
 - a. F11
 - b. F5
 - c. Enter
 - d. F1

2. Pod którym przyciskiem Menu górnego znajduje się opcja wstawiania Punktów i numeracji?
 - a. Wstaw
 - b. Format
 - c. Narzędzia
 - d. Okno

3. Czy możliwe jest przenoszenie slajdów prezentacji pomiędzy dwoma różnymi prezentacjami?
 - a. Tak
 - b. Nie
 - c. Tak pod warunkiem że prezentacje mają taką samą liczbę slajdów.
 - d. Tak pod warunkiem że na slajdach jest zamieszczony tylko tekst.

4. Czy możliwe jest w prezentacji wstawienie filmu?
 - a. Tak
 - b. Nie
 - c. Tak pod warunkiem że film jest dłuższy niż 5 sekund
 - d. Tak pod warunkiem że film jest krótszy niż 10 min

M7 – USŁUGI W SIECIACH INFORMATYCZNYCH

1. Co to jest Wyszukiwarka sieciowa?
 - a. Program wyszukujący wirusy w komputerze
 - b. Program wyszukujący odpowiednie zasoby w Internecie przy wykorzystaniu słów kluczowych
 - c. Aplikacja do wyszukiwania informacji na dysku twardym komputera
 - d. Narzędzie do wyszukiwania osób w komunikatorach internetowych

2. Która z poniższych Aplikacji nie jest Wyszukiwarką internetową?
 - a. Internet Explorer
 - b. Mozilla Firefox
 - c. OpenOffice





d. Opera

3. Który z poniższych adresów strony WWW jest niepoprawny

- a. <http://onet.pl>
- b. <http://www.onet.pl>
- c. C:\Windows
- d. <FTP://mojserwer.pl>

4. Wskaż poprawny adres mail

- a. <http://Jan.Kowalski.Warszawa>
- b. Jan.Kowalski@poczta.pl
- c. C:\JanKowalski
- d. <ftp://JanKowalski>

Dziękujemy

